

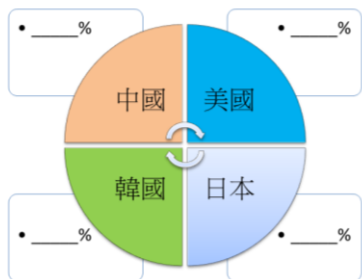


第三課節

模擬國際 IPHONE 生產爭論

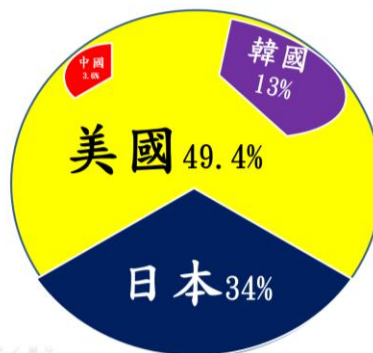
哪組模擬分配最準確？

請四人一小組，分別扮演中國、美國、日本及韓國企業代表，爭奪一部IPHONE手機從投資、設計、技術投入、生產等製作過程的參與，分析爭取最終利潤如何分配的理據。



限時10分鐘

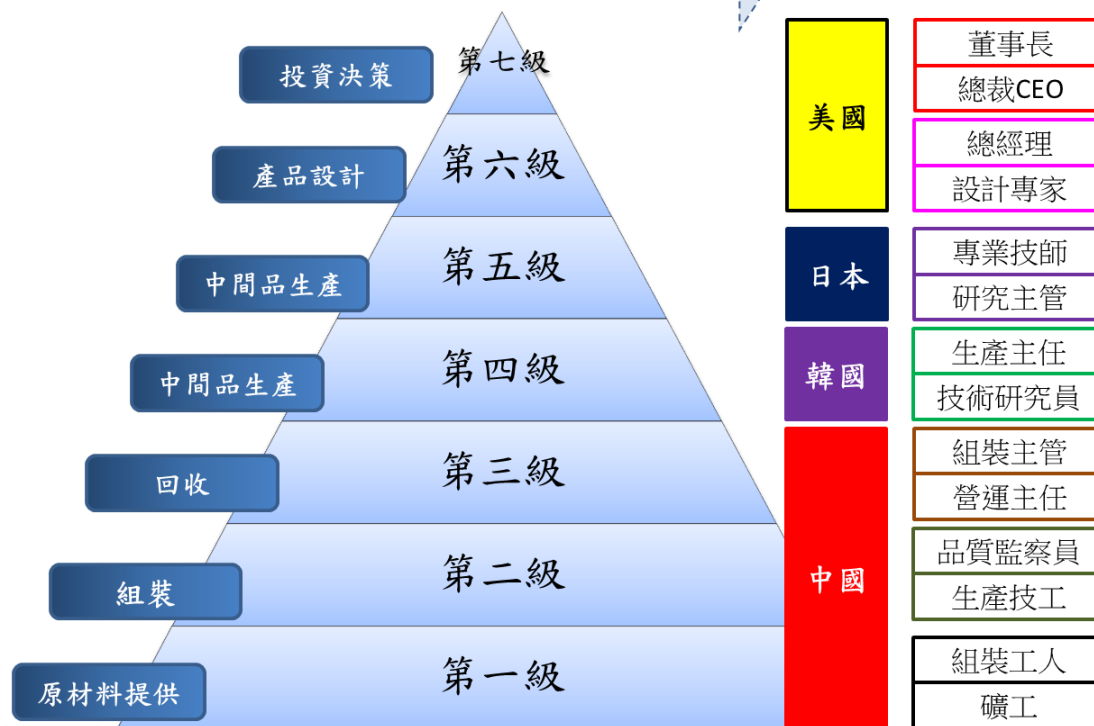
一部IPHONE手機的全球價值鏈：



美國：49.4%
 日本：34%
 韓國：13%
 中國：3.6%

投資、設計、
 品牌、技術、
 生產、營運...

一部IPHONE手機的全球價值鏈類比：





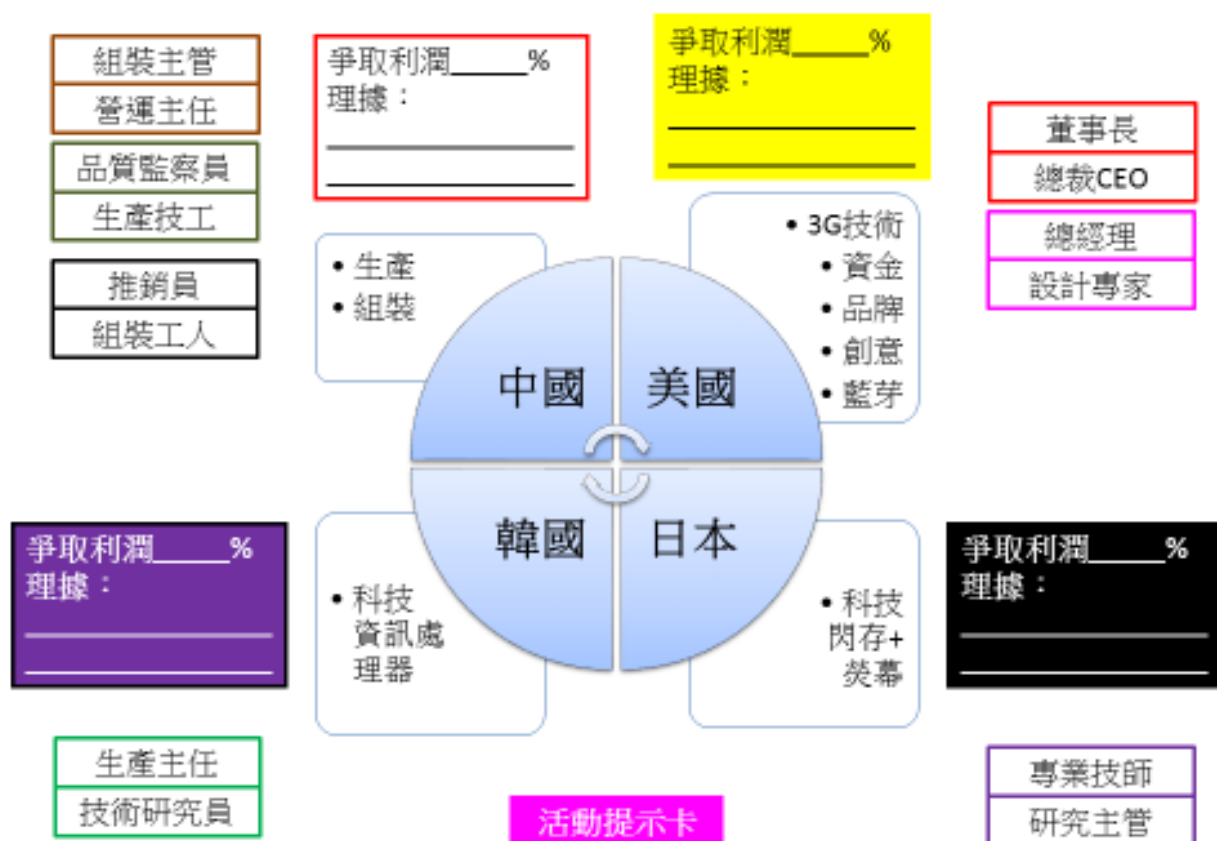
第三課節

WS (7)：模擬國際 IPHONE 生產爭論

姓名：_____ () 班級：_____

日期：_____

請四人一小組，分別扮演中國、美國、日本及韓國企業代表，相聚爭議討論一部 IPHONE 手機從投資、設計、技術投入、生產等過程的本國應得利潤分額。將各國 % 寫在橫線上。

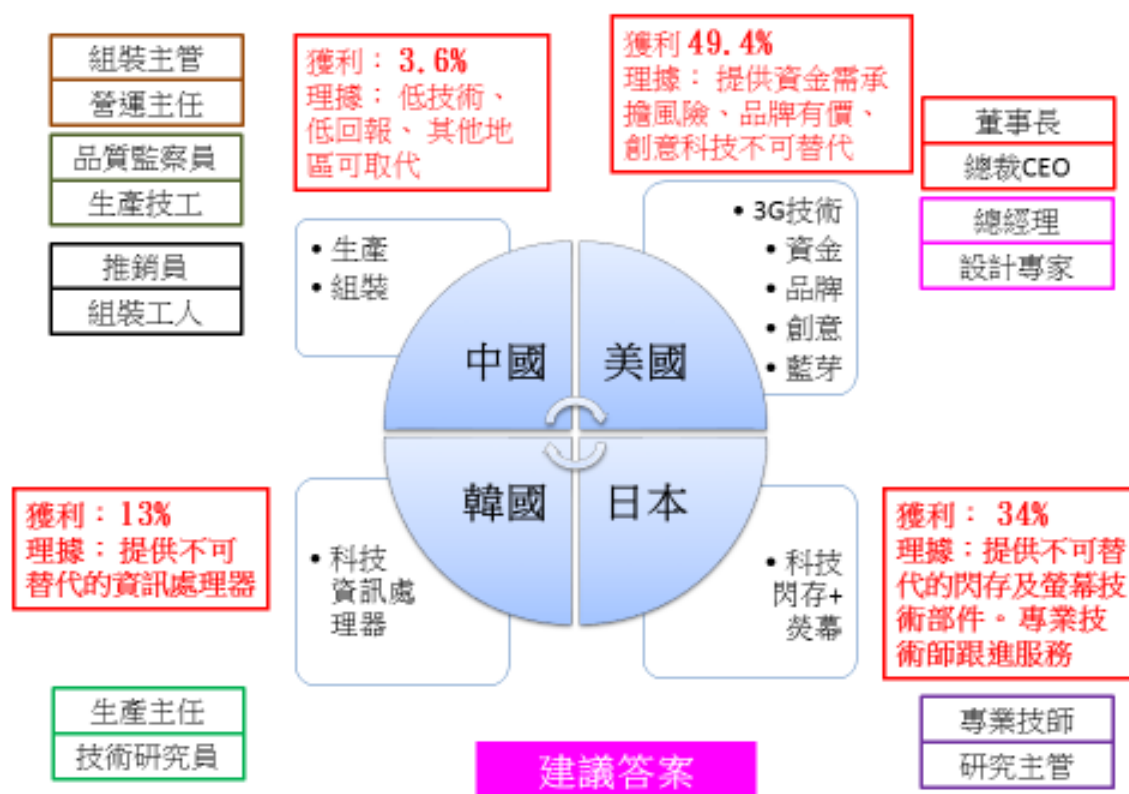


第三課節

WS (7)：模擬國際 IPHONE 生產爭論

(建議答案，合理亦可)

請四人一小組，分別扮演中國、美國、日本及韓國企業代表，相聚爭議討論一部 IPHONE 手機從投資、設計、技術投入、生產等過程的本國應得利潤分額。將各國 % 寫在橫線上。



資料數據參考來源：新華網 http://news.xinhuanet.com/photo/2014-03/03/c_126211549.htm